

कुल पृष्ठ संख्या (उपरोक्त कवर पत्र सहित)

क्रम संख्या


3082156



माध्यमिक शिक्षा बोर्ड, राजस्थान, अजमेर
उच्च माध्यमिक परीक्षा



(परीक्षक)



नोट :- परीक्षार्थी उपरोक्त के अतिरिक्त उत्तर पुस्तिका के अन्य किसी भी भाग में अपना नामांक नहीं लिखें।

माध्यम - हिन्दी अंग्रेजी

विषय अर्थशास्त्र

परीक्षा का दिन शनिवार


दिनांक 16-04-2022

नोट :- परीक्षार्थी के लिए आवश्यक निर्देश इस पृष्ठ के पिछले भाग पर उल्लेखित हैं। जिन्हें सावधानी पूर्वक पढ़ लें व पालना अवश्य करें।

- परीक्षक हेतु निर्देश :- (1) परीक्षक को उपरोक्त सारणी अनुसार प्राप्तांक भरना अनिवार्य हैं, अन्यथा नियमानुसार दंडित किया जायेगा।
(2) परीक्षक उत्तर पुस्तिका के अन्दर के पृष्ठों के बायीं ओर निर्धारित कॉलम में लाल इंक से अंक प्रदत्त करें।
(3) कुल योग भिन्न में प्राप्त होने पर उसे पूर्णांक में ही परिवर्तित कर अंकित करें (उदाहरणार्थ : 15 ¼ को 16, 17 ½ को 18, 19 ¾ को 20)

प्रश्नवार प्राप्तांकों की सारणी (परीक्षक के उपयोग हेतु)			
प्रश्नों की क्रम संख्या	प्राप्तांक	प्रश्नों की क्रम संख्या	प्राप्तांक
1	12	19	3
2	6	20	3
3	11½	21	4
4	2	22	4
5	2	23	4
6	2	24	
7	2	25	
8	2	26	
9	2	27	
10	2	28	
11	2	29	
12	2	30	
13	2	31	
14	2	योग	79½
15	2	प्राप्त अंकों का कुल योग (Round off)	
16	2	अंकों में	शब्दों में
17	3	80	अस्सी
18	3		

परीक्षक के हस्ताक्षर संकेतांक 30301
प्रमाणित किया जाता है कि इस उत्तर पुस्तिका के निर्माण में 58 जी.एस.एम. ईको मैपलिथो कागज ही उपयोग में लिया गया है। 168/2021



परीक्षार्थियों के लिए आवश्यक निर्देश

1. समस्त प्रश्नों का हल निर्धारित शब्द सीमा में इसी उत्तर पुस्तिका में करना है। विशेष परिस्थिति में अतिरिक्त उत्तर पुस्तिका पृथक से उत्तर पुस्तिका भरी हुई होने पर पर्यवेक्षक एवं वीक्षक की अनुशंसा पर ही उपलब्ध कराई जायेगी।
2. प्रश्न-पत्र पर निर्धारित स्थान पर अपना नामांक लिखें।
3. प्रश्न-पत्र हल करने के पश्चात् जिस पृष्ठ पर हल समाप्त होता है, उस पर अन्त में "समाप्त" लिखकर अन्त के सभी रिक्त पृष्ठों को तिरछी लाईन से काटें।
4. निम्न बातों का विशेष ध्यान रखें अन्यथा अनुचित साधनों की रोकथाम अधिनियम के तहत कार्यवाही की जा सकेगी।
 - (i) उत्तर पुस्तिका के ऊपर/अन्दर तथा प्रश्नोत्तर के किसी भी भाग में चाही गई सूचना के अलावा अपना नामांक, नाम, पता, फोन नम्बर अथवा पहचान की कोई अन्य प्रकार की सूचना आदि अंकित नहीं करें अन्यथा "अनुचित साधनों के प्रयोग" के अन्तर्गत कार्यवाही की जावेगी।
 - (ii) उत्तर पुस्तिका के पृष्ठों को फाड़ें नहीं। उत्तर-पुस्तिका के मुख पृष्ठ पर अंकित संख्या के अनुसार पृष्ठ पूरे होने चाहिये। परीक्षार्थी उत्तरपुस्तिका प्राप्त करते ही पृष्ठ संख्या की जांच कर लें यदि पृष्ठ कम/अधिक या क्रम में नहीं हैं तो वीक्षक से तुरन्त बदलवा लें।
 - (iii) परीक्षा केन्द्रों पर पुस्तक, लेख, कागज, केलक्यूलेटर, मोबाईल, पेजर आदि किसी भी प्रकार का इलेक्ट्रॉनिक उपकरण तथा किसी भी प्रकार का हथियार आदि ले जाना निषेध है।
 - (iv) वस्त्र, स्केल, ज्योमेट्री बॉक्स पर कुछ न लिखकर लावें। टेबुल के आस-पास कोई अवैध सामग्री नहीं होनी चाहिये, इसकी जांच कर लें।
 - (v) अपनी उत्तर पुस्तिका/ग्राफ/मानचित्र आदि परीक्षा भवन से बाहर ले जाना दण्डनीय अपराध है, अतः परीक्षा समाप्ति पर उत्तर पुस्तिका वीक्षक को बिना सौंपे परीक्षा कक्ष नहीं छोड़ें।
5. उत्तरों को क्रमानुसार एक ही स्थान पर लिखें। प्रश्न क्रमांक भी सही अंकित करें, अन्यथा दण्ड स्वरूप परीक्षक को 1 अंक कम करने का अधिकार है। बीच में उत्तर पुस्तिका के पृष्ठ रिक्त न छोड़ें। गणित विषय के लिए रफ कार्य उत्तर पुस्तिका के अंतिम पृष्ठों पर करें तथा तिरछी रेखा से काटें।
6. जहाँ तक हो सके प्रश्न के सभी भाग के उत्तर, उत्तर पुस्तिका में एक ही स्थान पर अंकित करें।
7. भाषा विषयों को छोड़कर शेष सभी विषयों के प्रश्न-पत्र हिन्दी-अंग्रेजी दोनों भाषा में मुद्रित है। किसी भी प्रकार की त्रुटि/अन्तर/विरोधाभास होने पर हिन्दी भाषा के प्रश्न को ही सही माना जाये।



परीक्षक द्वारा प्रदत्त अंक

प्रश्न संख्या

परीक्षार्थी उत्तर

खण्ड - अ

प्र. सं.
उ०

प्रश्न क्रमांक	उत्तर
(i)	(ख)
(ii)	(ख)
(iii)	(ब)
(iv)	(क)
(v)	(अ)
(vi)	(ख)
(vii)	(ब)
(viii)	(अ)
(ix)	(ख)
(x)	(क)
(xi)	(ब)
(xii)	(ख)

= (12)

प्र. सं.
उ०

(i) आयत

(ii) मुद्रा

(iii) सार्वजनिक कर्मचारियों का वेतन, पेंशन

(iv) चयन

(v) बाजार मांग

परीक्षक द्वारा
प्रश्न अंकप्रश्न
संख्या

परीक्षार्थी उत्तर

= 6

(vi) उत्पादन फलन

प्र०३.

(i)

उ० सभी महत्वपूर्ण निर्णय बाजार की शक्तियों के आधार पर निजी क्षेत्र द्वारा लेना।

(ii)

उ० राष्ट्रीय प्रयोज्य आय बाजार कीमत पर निवल धरेलू उत्पाद एवं विश्व से प्राप्त सहायन आय का योग होता है। निवल

1/2

राष्ट्रीय प्रयोज्य आय :- $NDP_{mp} + NFIA$

BSE-08/2021

(iii)

उ० उत्पादन मूल्य = 100 रु
महयवर्ती मूल्य = 40 रु
सकल मूल्यवर्धित = ?

सकल मूल्यवर्धित = उत्पादन मूल्य - महयवर्ती मूल्य

$$\Rightarrow 100 - 40$$

सं० मूल्य \Rightarrow 60 रु Ans

(iv)

उ० मांग जमा



परीक्षक द्वारा प्रदत्त अंक

प्रश्न संख्या

परीक्षार्थी उत्तर

(V)
उ०

बैंक दर (BR) :-

दीर्घकाल में व्यापारिक बैंकों द्वारा जिस दर पर केंद्रीय बैंक से ऋण लिया जाए।

(VI)
उ०

संतुलित बजट :-

जब सरकार की आय तथा सरकार के व्यय समान हो।

$$E = Y$$

$Y =$ आय

$E =$ व्यय

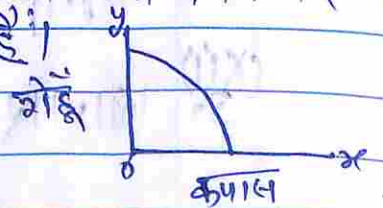
(VII)
उ०

आवंटन कार्य :-

सरकार द्वारा सार्व. वस्तु की आपूर्ति करवाना।

(VIII)
उ०

उपलब्ध भौद्योगिकी ज्ञान एवं तकनीक के आधार पर उत्पादित सभी वस्तुओं एवं सेवाओं के संभावित संयोगों के समूह को उत्पादन संभावनाएँ तथा अथवा निर्मित वस्तु को उत्पादन संभावना सेट कहते हैं।



(IX)
उ०

लोच :- मांग में प्रतिशत परिवर्तन
कीमत में प्रतिशत परिवर्तन

कीमत = 40% वृद्धि

मांग = 20% कमी



परीक्षक द्वारा प्रदत्त अंक	प्रश्न संख्या	परीक्षार्थी उत्तर
----------------------------	---------------	-------------------

~~उ०~~

उ०

$$E_d \Rightarrow \frac{20\%}{40\%}$$

~~$$E_d \Rightarrow 0.5 \text{ Ans}$$~~

(X) उ० अल्पकाल :-

वह समयावधि जब उत्पादन के कुल कारक स्थिर हो तथा कुल कारक परिवर्तित हो। उत्पादन में वृद्धि हेतु केवल परिवर्तित साधन में वृद्धि की जा सकती है।

(XI) उ० सीमांत उत्पाद :-

कुल उत्पाद में परिवर्तन आगत में परिवर्तन

$$MP = \frac{TP_n - TP_{n-1}}{\Delta L}$$

~~$$MP = \frac{\Delta TP}{\Delta L}$$~~

(XII) उ० बाजार में क्रेताओं व विक्रेताओं की संख्या अधिक

~~11/11~~



परीक्षक द्वारा प्रदत्त अंक

प्रश्न संख्या

परीक्षार्थी उत्तर

खण्ड - B

प्रश्न संख्या

उ०

उपभोग्य वस्तु :-

- * शीशी
- * सल्फी
- * टीवी.

1+1

2

पूँजीगत वस्तु :-

- * मशीन
- * ट्रैक्टर

प्रश्न संख्या

उ०

सकल राष्ट्रीय उत्पाद :-

एक देश में वित्तीय वर्ष में उत्पादित सभी वस्तु व सेवाओं का अंतिम मौद्रिक मूल्य। इसमें विदेशों से प्राप्त निवल कारक आया भी शामिल होती है।

1+1

2

$$GNP_{mp} = GPP_{mp} + NFIA$$

सकल घरेलू उत्पाद :-

एक देश की घरेलू सीमा में एक वित्त वर्ष में उत्पादित सभी वस्तु व सेवाओं का अंतिम मौद्रिक मूल्य का योग।

प्रश्न संख्या

उ०

- (i) जमा स्वीकार करना
- (ii) ग्रहण प्रदान करना



परीक्षक द्वारा प्रदत्त अंक

प्रश्न संख्या

परीक्षार्थी उत्तर

* जमा स्वीकार करना :-

व्यवसायिक बैंक लोगों की जमाएँ स्वीकार करती हैं, इन्हीं जमाओं पर वह ऋण प्रदान करती हैं। एवं जमाओं पर व्याज भी देती हैं।

* ऋण प्रदान करना :-

व्यवसायिक बैंक अपने ग्राहकों को आवश्यकता पड़ने पर ऋण भी प्रदान करती हैं। इस ऋण पर बैंक वाजिब व्याज भी वसूलती हैं।

1+1
= (2)

BSR-168/2021

सं. 3

पूँजीगत प्राप्तियाँ :-

जिनसे सरकार की देयताओं में वृद्धि तथा परिसंपत्तियों पर कमी हों।

समुख मर्दे :- (i) सार्वजनिक ऋण :-

कभी 2 घंटे की आपूर्ति हेतु सरकार द्वारा जाता है जिस पर सरकार व्याज का भुगतान भी करती है।

1+1
= (2)

(ii) व्याज वसूली :-

सरकार लोगों को दिये गये ऋणों पर भारी मात्रा में व्याज भी वसूलती हैं।



परीक्षक द्वारा प्रदत्त अंक

प्रश्न संख्या

परीक्षार्थी उत्तर

प्र०८
उ० विशेषतारें :-

(i) इनको प्राप्त करने हेतु नाम मात्र का शुल्क या निःशुल्क प्राप्त की जा सकती है।

(ii) इनकी उपयोगिता पर, एक व्यक्ति के उपयोग से दूसरे की उपयोगिता पर कोई संभाव नहीं पड़ता है।

1+1
= 2

प्र०९

उ० प्रत्यक्ष कर :- * आय कर
* निगम कर

1+1

= 2

अप्रत्यक्ष कर :- * वस्तु एवं सेवा कर (GST)
* सीमा शुल्क

प्र०१०

उ० राजस्व घाटा :- राजस्व आय तथा राजस्व व्यय का अंतर (राजस्व व्यय - राजस्व प्राप्तियाँ)

* राजस्व घाटा राजस्व व्यय पर राजस्व आय की कमी को दर्शाता है।

2

प्र०११

उ० केंद्रीय समस्याएँ :-

- (i) क्या उत्पादन करें व कितनी मात्रा में (चुनाव संबंधी)
- (ii) कैसे उत्पादन करें (तकनीकी समस्या)
- (iii) किसके लिए उत्पादन करें (वितरण संबंधी)

1+1
= 2



परीक्षक द्वारा प्रदत्त अंक

प्रश्न संख्या

परीक्षार्थी उत्तर

प्रश्न

उ. पूरक वस्तु

* दो वस्तुओं का एक साथ में प्रयोग किया जाए

* उदा.:- चाय व चीनी
(ii) पैन व कॉफी

स्थानापन्न वस्तु

* दो वस्तुओं का एक दूसरे के स्थान पर प्रयोग किया जाए

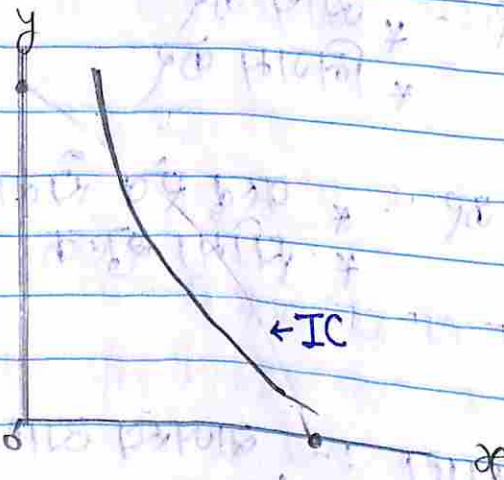
* उदा.:- (i) चाय व कॉफी
(ii) गाड़ी व मोटरबाइक

1+1
= 2

प्रश्न

उ.

2



अनादिमान या उदासीनता वक्र

प्रश्न

उ. कुल स्थिर लागत (TFC) वक्र शून्य (x) अक्ष के समांतर होता है क्योंकि शून्य उत्पादन पर भी इस लागत का वहन करना पड़ता है।




परीक्षक द्वारा प्रदत्त अंक

प्रश्न संख्या

परीक्षार्थी उत्तर

2




प्रश्न

उ० औसत संप्राप्ति (AR) :-

प्रति इकाई (उत्पादन) बेचने पर प्राप्त होने वाली आय औसत संप्राप्ति कहलाती है। ये वस्तु की कीमत और सीमान्त संप्राप्ति के समान ही होती है।

$$\text{औसत संप्राप्ति (AR)} :- \frac{\text{TR (कुल संप्राप्ति)}}{Q \text{ (मात्रा)}}$$

2



BSER-168/2021

परीक्षक द्वारा
प्रदत्त अंकप्रश्न
संख्या

परीक्षार्थी उत्तर

सं० 6.

उ० बाजार पूर्ति (I_m) :-

"सभी विक्रेताओं द्वारा बाजार में
बेची जाने वाली मात्रा।"
इसे सभी विक्रेताओं की बेची जाने वाली मात्रा
का योग करके ज्ञात किया जाता है।

②

$$I_m = S_1 + S_2 + \dots + S_n$$

सं० 7.

सं० 7.

उ० NNP(FC) (राष्ट्रीय आय) की गणना

$$(i) GNP_{mp} = 1000 \text{ Cr.}$$

$$(ii) Dep = 200 \text{ Cr.}$$

$$(iii) it. = 150 \text{ Cr.}$$

$$(iv) Sub :- = 250 \text{ Cr.}$$

$$\Rightarrow NNP_{FC} = NNP_{mp} - Nit$$

$$\Rightarrow NNP_{mp} = GNP_{mp} - Dep \quad (Sub - it)$$

$$\Rightarrow 1000 \text{ Cr.} - 200 \text{ Cr.}$$

$$NNP_{mp} \Rightarrow 800 \text{ Cr.}$$



परीक्षक द्वारा प्रदत्त अंक

प्रश्न संख्या

परीक्षार्थी उत्तर

$$NNP_{FC} = NNP_{mp} + \text{Sub.} - IT$$

$$NNP_{FC} = 800 \text{ Cr.} + 250 \text{ Cr.} - 150 \text{ Cr.}$$

$$NNP_{FC} = 1050 \text{ Cr.} - 150 \text{ Cr.}$$

3 ⇒ NNP_{FC} = 900 Cr. Ans.

पृ. 18

उ. केन्द्रीय बैंक के तीन कार्य :-

- (i) नोट निर्गमन
- (ii) बैंकों का बैंक एवं अंतिम गृहण दाता
- (iii) विदेशी विनिमयों का संरक्षक

* नोट निर्गमन :-

देश का केन्द्रीय बैंक मुख्य रूप से देश में मान्य करेंसी की आपूर्ति है और वैधता सदान करता है। नोट निर्गमन का एकाधिकार केवल केन्द्रीय बैंक को ही होता है।

* अंतिम गृहणदाता :-

केन्द्रीय बैंक किसी देश का सर्वोच्च बैंक होता है। ये व्यावसायिक बैंक को जरूरत पडने पर गृहण भी देता है। ये सभी व्यावसायिक बैंकों का मुखिया भी होता है। सभी व्यावसायिक बैंकों के लिए अंतिम गृहणदाता भी होता है।

HSER-168/2021



परीक्षक द्वारा प्रदत्त अंक

प्रश्न संख्या

परीक्षार्थी उत्तर

* विदेशी विनिमय संरक्षक !

1+1+1
3

केन्द्रीय बैंक विदेशों से प्राप्त कोष को अपने पास रखता है एवं वह सभी व्यवसायिक बैंकों के पास रखी गई जमाओं पर नियंत्रण भी रखता है। एवं उन्हें साथ पर भी नियंत्रण देता है।

प्रश्न

30 व्यापि अर्थशास्त्र

समापि अर्थशास्त्र

* अर्थव्यवस्था की व्यक्तिगत इकाइयों का अध्ययन

* समग्र इकाइयों या समग्र अर्थव्यवस्था का अध्ययन

* व्यक्तिगत समस्याओं या विशिष्ट समस्या समाधान में सहायक

* समग्र अर्थव्यवस्था को समझने व समग्र समाधान में सहायक

1+1+1/2
3

* अध्ययन एवं विश्लेषण सरल एवं सुगम

* काफी जटिल

* उदा:- उपभोक्तासिद्धान्त मांग, पूर्ति, लोच, विशिष्ट फर्म, विशिष्ट उत्पादन

* उदा:- रोजगार सिद्धान्त, राष्ट्रीय आय, प्रति व्यक्ति आय



परीक्षक द्वारा प्रदत्त अंक

प्रश्न संख्या

परीक्षार्थी उत्तर

उ०

~~P = 10 ₹~~

या Q = 100

P₁ = 12 ₹

Q₁ = 120

$$E_s \Rightarrow \left[\frac{P}{Q} \times \frac{\Delta Q}{\Delta P} \right]$$

$$\Delta Q = Q_1 - Q$$

$$\Delta P = P_1 - P$$

$$\Delta Q = 120 - 100$$

$$\Delta P = 12 - 10$$

$$\Delta Q = ~~100~~ 20$$

$$\Delta P = 2 ₹$$

$$E_s = \frac{P}{Q} \times \frac{\Delta Q}{\Delta P}$$

$$\frac{10}{100} \times \frac{20}{2}$$

$$\Rightarrow \frac{10}{10}$$

E_s = 1 Ans (इकाई लीच)

~~खण्ड - 6~~

सं०

उ० मुद्रा प्रतिके चार माप :-
× m₁ × m₃
× m₂ × m₄

P.T.O



परीक्षक द्वारा प्रदत्त अंक

प्रश्न संख्या

परीक्षार्थी उत्तर

$$(i) M_1 := CU + DD$$

इसमें $CU =$ लोगों की करेंसी तथा $DD =$ व्यवसायिक बैंक में रखी गई जमाएं शामिल होती हैं।

$$(ii) M_2 := M_1 + \text{डाक की जमाएं}$$

इसमें $M_1 +$ डाक में रखी गई जमाओं को सम्मिलित किया जाता है।

$$(iii) M_3 :=$$

$M_1 +$ व्यवसायिक बैंकों की निवल आवधिक जमाएं
इसमें $M_1 +$ व्यवसायिक बैंकों की निवल आवधिक जमाओं को सम्मिलित किया जाता है।

$$(iv) M_4 :=$$

$M_3 +$ डाक की कुल जमाएं
इसमें $M_3 +$ डाक की कुल जमाओं को सम्मिलित किया जाता है।

4

- * इनमें से M_1 को सबसे कम माप माना गया है।
- * M_3 को व्यापक माप माना गया है।



परीक्षक द्वारा प्रदत्त अंक

प्रश्न संख्या

परीक्षार्थी उत्तर

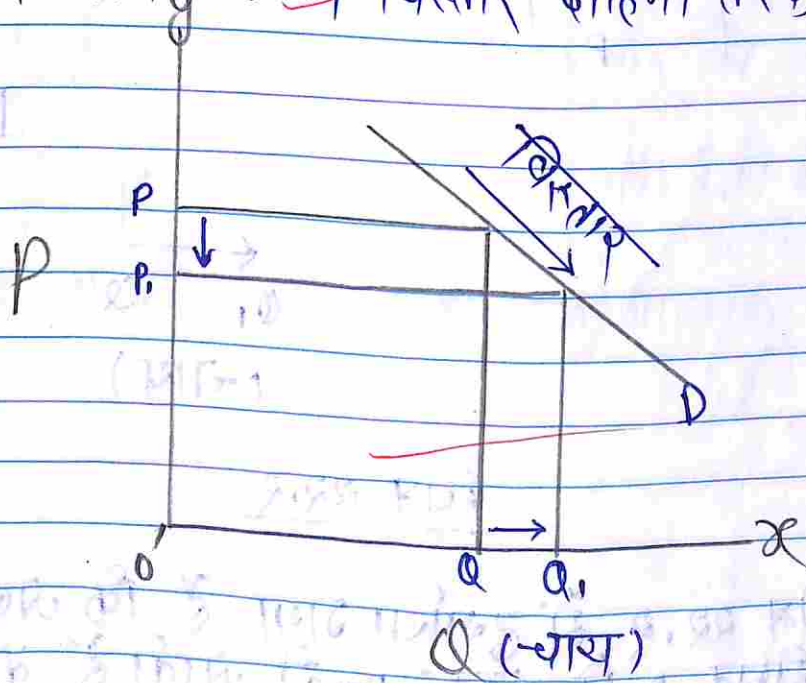
प्रश्न

उ. मांग वक्र में गति -

- (i) संकुचन
(ii) विस्तार

* मांग वक्र में विस्तार :-

मांग वक्र में विस्तार अन्य तत्वों के स्थिर रहते हुए कीमत में कमी के कारण होता है। जब वस्तु की कीमत में कमी आती है तो उपभोक्ता अधिक वस्तुओं का उपभोग कर पाता है। * तब मांग वक्र में ~~विस्तार~~ दाहिनी तरफ होता है।



Q (चाय)

चित्र २२.१

चित्र २२.१ में दर्शाया गया है कि चाय की कीमत P से घटकर P_1 हो गयी तो उसकी मात्रा Q से बढ़कर Q_1 हो गयी तथा मांग वक्र - D दाहिनी तरफ विस्तारित हो रहा है।



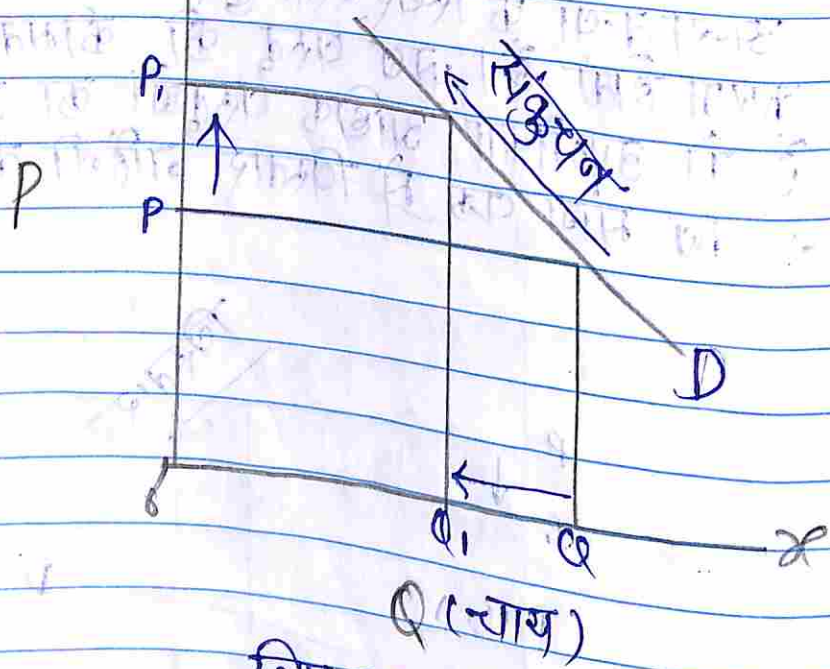
परीक्षक द्वारा प्रदत्त अंक

प्रश्न संख्या

परीक्षार्थी उत्तर

* मांग वक्र में संकुचन :-

जब अन्य तत्व स्थिर रहते हैं तथा किसी वस्तु की कीमत में वृद्धि हो जाती है तो उपभोक्ता पहले की तुलना में कम वस्तुओं का उपभोग कर पाता है। तब मांग वक्र बाईं तरफ संकुचित हो जाता है।



4

चित्र २२.२

चित्र २२.२ में दर्शाया गया है कि जब चाय की कीमत P से बढ़कर P₁ हो जाती है तब उसकी मात्रा Q से घटकर Q₁ हो जाती है तथा उसका मांग वक्र बाईं तरफ संकुचित हो गया।



परीक्षक द्वारा प्रदत्त अंक

प्रश्न संख्या

परीक्षार्थी उत्तर

प्रश्न

उ परिवर्तनशील अनुपातों के नियम:-

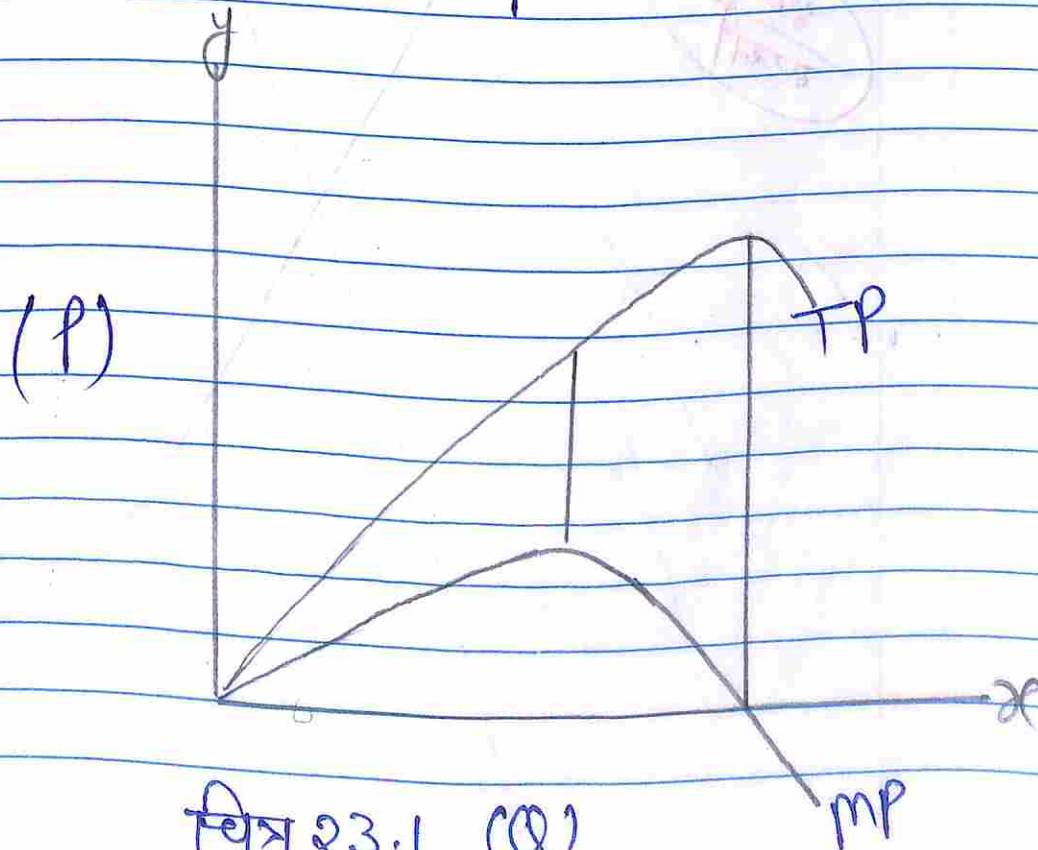
इस नियम के अन्तर्गत अल्पकाल में जब परिवर्तनी साधनों की मात्रा में वृद्धि की जाती है तब मारम्भ में कुल उत्पादन (TP) बढ़ती हुई दर से बढ़ता है। बाद में TP घटती हुई दर से बढ़ता है, फिर TP अपने अधिकतम बिन्दु पर पहुँच जाता है।

यदि आगे भी परिवर्तनी साधनों में वृद्धि की जाए तो TP घट भी सकता है।

* जब TP बढ़ती हुई दर से बढ़ता है तब MP भी बढ़ता है, जब TP घटती हुई दर से बढ़ता है तब MP घटता है।

* जब TP अपने अधिकतम बिन्दु पर होता है तब MP शून्य होता है।

* जब TP घटता है तो MP ऋणात्मक भी हो सकता है।



चित्र 23.1 (II)



परीक्षक द्वारा प्रदत्त अंक

प्रश्न संख्या

परीक्षार्थी उत्तर

4

रेखाचित्र 23.1 में दर्शाया गया है कि जब TP बढ़ता है, बलनी हुई दर से, तब MP भी बढ़ रहा है। जब TP घटती हुई दर से बढ़ता है तब MP घटना बिन्दु पर होता है। जब TP अपने अधिकतम TP घटता है तो MP शून्य होता है। जब कभी MP ऋणात्मक भी हो सकता है।

अमान्य

24/04/22

80
करसी

BSEH-1682021



परीक्षक द्वारा प्रदत्त अंक

प्रश्न संख्या

परीक्षार्थी उत्तर

BSER-68/2021

परीक्षक द्वारा
प्रदत्त अंकप्रश्न
संख्या

परीक्षार्थी उत्तर

BSER-168/2021



परीक्षक द्वारा
प्रदत्त अंक

प्रश्न
संख्या

परीक्षार्थी उत्तर

BSER-1682021



परीक्षक द्वारा
प्रदत्त अंक

प्रश्न
संख्या

परीक्षार्थी उत्तर

BSER-168/2021

परीक्षक द्वारा
प्रदत्त अंकप्रश्न
संख्या

परीक्षार्थी उत्तर

BSER-168/2021



परीक्षक द्वारा
प्रदत्त अंक

प्रश्न
संख्या

परीक्षार्थी उत्तर

BSEIR-168/2021



परीक्षक द्वारा प्रदत्त अंक

प्रश्न संख्या

परीक्षार्थी उत्तर

BSEK-168/2021



परीक्षक द्वारा प्रदत्त अंक

प्रश्न संख्या

परीक्षार्थी उत्तर

BSER-168/2021



परीक्षक द्वारा
प्रदत्त अंक

प्रश्न
संख्या

परीक्षार्थी उत्तर

BSER-168/2021

